

2024학년도 SAJ 인재원 고2 학력평가 문제지

수학 영역

성명		수험번호					2			
----	--	------	--	--	--	--	---	--	--	--

- 문제지의 해당란에 성명과 수험 번호를 정확히 쓰시오.
- 답안지의 필적 확인란에 다음의 문구를 정자로 기재하십시오.

가장 넓은 길은 언제나 내 마음속에

- 답안지의 해당란에 성명과 수험 번호를 쓰고, 또 수험 번호와 답을 정확히 표시하십시오.
- 단답형 답의 숫자에 '0'이 포함되면 그 '0'도 답란에 반드시 표시하십시오.
- 문항에 따라 배점이 다르니, 각 물음의 끝에 표시된 배점을 참고하십시오.
- 계산은 문제지의 여백을 활용하십시오.

※ 시험이 시작되기 전까지 표지를 넘기지 마십시오.

제 2 교시

수학 영역

5지선다형

1. $\left(\frac{4}{\sqrt[3]{16}}\right)^{\frac{3}{2}}$ 의 값은? [2점]

- ① 1 ② 2 ③ 4 ④ 8 ⑤ 16

2. 함수 $f(x)=x^3+3x^2+5x+2$ 에 대하여 $f'(1)$ 의 값은? [2점]

- ① 11 ② 12 ③ 13 ④ 14 ⑤ 15

3. $\sum_{k=1}^5 \left(2^k \times \sin \frac{k\pi}{2}\right)$ 의 값은? [2점]

- ① 24 ② 26 ③ 28 ④ 30 ⑤ 32

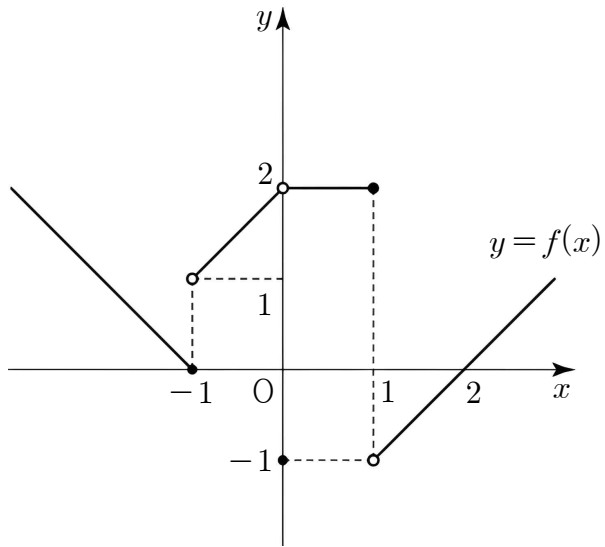
4. 첫째항이 -6 이고 공차가 0 이 아닌 등차수열 $\{a_n\}$ 에 대하여

$$|a_5| = |a_9|$$

일 때, a_{13} 의 값은? [3점]

- ① 4 ②
- $\frac{9}{2}$
- ③ 5 ④
- $\frac{11}{2}$
- ⑤ 6

5. 함수 $f(x)$ 의 그래프가 아래와 같다.



$\lim_{x \rightarrow 1^+} (f \circ f)(x) + \lim_{x \rightarrow 0} f(x)$ 의 값은? [3점]

- ① 0 ② 1 ③ 2 ④ 3 ⑤ 4

6. $0 < \theta < \frac{\pi}{2}$ 인 θ 에 대하여 $3\sin\theta = 4\cos\theta$ 일 때,

$\sin(\pi + \theta) + \cos\left(\frac{\pi}{2} + \theta\right)$ 의 값은? [3점]

- ① $-\frac{8}{5}$ ② $-\frac{6}{5}$ ③ $-\frac{4}{5}$ ④ $\frac{4}{5}$ ⑤ $\frac{6}{5}$

7. 상수 a 에 대하여 다항함수 $f(x)$ 가 모든 실수 x 에 대하여

$$f(x+1) - f(1) = x^2 + ax$$

를 만족시킨다. $f'(1) = 2$ 일 때, 점 $(a, f(a))$ 에서의 함수 $f(x)$ 의 접선의 기울기는? [3점]

- ① 1 ② 2 ③ 3 ④ 4 ⑤ 5

8. 다항함수 $f(x)$ 에 대하여

$$\lim_{x \rightarrow \infty} \frac{f(x)}{x^2 + 3x + 5} = 2, \lim_{x \rightarrow 1} \frac{f(x)}{x - 1} = 0$$

일 때, $f(5)$ 의 값은? [3점]

- ① 30 ② 32 ③ 34 ④ 36 ⑤ 38

9. 첫째항이 2인 수열 $\{a_n\}$ 이 모든 자연수 n 에 대하여

$$a_{n+1} = \begin{cases} a_n + 4 & (a_n < 10) \\ a_n - 10 & (a_n \geq 10) \end{cases}$$

을 만족시킬 때, $a_5 + a_{15}$ 의 값은? [3점]

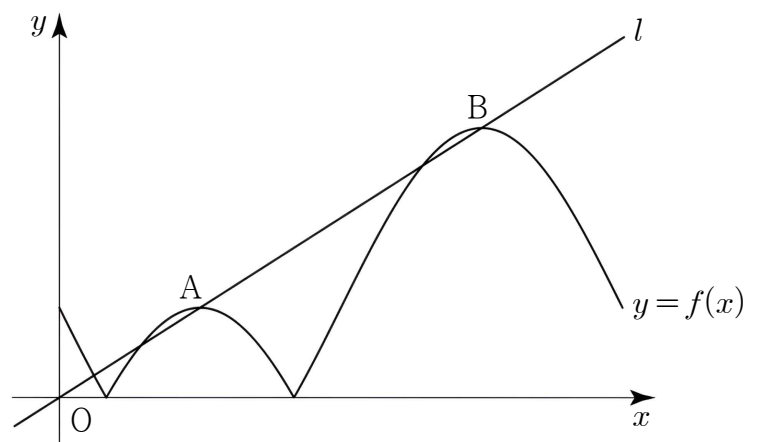
- ① 2 ② 4 ③ 6 ④ 8 ⑤ 10

10. 그림과 같이 곡선 $f(x) = |a \sin x - b|$ ($0 \leq x \leq 2\pi$)가 원점을 지나는 직선 l 과 서로 다른 두 점

$$A\left(\frac{\pi}{2}, f\left(\frac{\pi}{2}\right)\right), B\left(\frac{3\pi}{2}, f\left(\frac{3\pi}{2}\right)\right)$$

에서 만난다. $f\left(\frac{7}{6}\pi\right) = 2$ 일 때, $a+b$ 의 값은?

(단, a, b 는 상수이고 $a > 0, b > 0$) [3점]



- ① $\frac{8}{3}$ ② 3 ③ $\frac{10}{3}$ ④ $\frac{11}{3}$ ⑤ 4

11. 둘레의 길이가 20인 삼각형 ABC의 외심을 O라 할 때,
 $\overline{OA} \times \overline{OB} \times \overline{OC} = 64$ 이다. $\sin A + \sin B + \sin C$ 의 값은? [3점]

- ① $\frac{3}{2}$ ② $\frac{7}{4}$ ③ 2 ④ $\frac{9}{4}$ ⑤ $\frac{5}{2}$

12. 첫째항이 1인 수열 $\{a_n\}$ 이 모든 자연수 n 에 대하여

$$(a_{n+1} - 2a_n)(a_{n+1} - 3a_n) = 0$$

을 만족시킨다. 어떤 자연수 m 에 대하여 $a_m = 72$ 일 때,
 모든 a_{m+1} 의 값의 합을 S 라 하자. $m + S$ 의 값은? [3점]

- ① 360 ② 362 ③ 364 ④ 366 ⑤ 368

13. 0이 아닌 실수 a 에 대하여 함수 $f(x)$ 를

$$f(x) = \begin{cases} 2x - a & (x < a) \\ -x & (x \geq a) \end{cases}$$

라 하자. 함수 $(x - 2a + 1)f(x)$ 가 실수 전체의 집합에서 연속일 때, $f(2a) \times f(-a)$ 의 값은? [3점]

- ① 2 ② 4 ③ 6 ④ 8 ⑤ 10

14. 상수 p 에 대하여 두 수열 $\{a_n\}, \{b_n\}$ 이 모든 자연수 n 에 대하여

$$\sum_{k=1}^n a_k = a_n + b_n, \quad \sum_{k=1}^n b_k = n^2 + pn$$

를 만족시킬 때, $\sum_{k=1}^{10} (a_k b_k + p)$ 의 값은? [4점]

- ① 160 ② 165 ③ 170 ④ 175 ⑤ 180

15. 삼각형 ABC가 다음 조건을 만족시킨다.

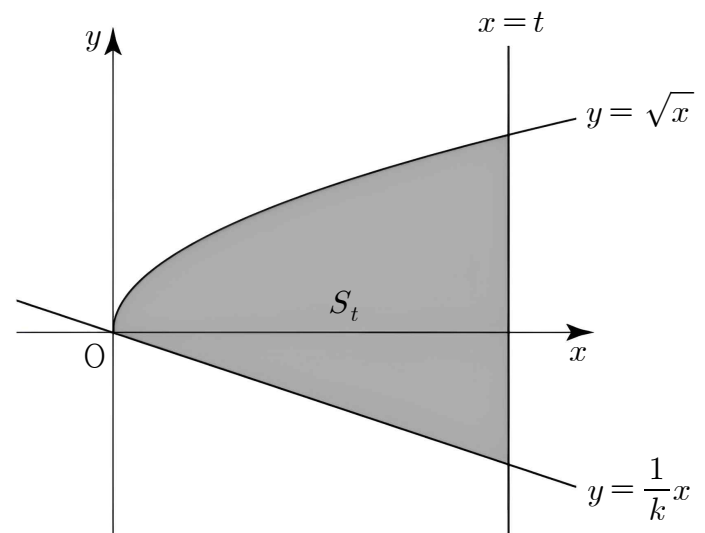
- (가) 삼각형 ABC의 둘레의 길이는 10이다.
- (나) 삼각형 ABC의 세 변 중 한 변의 길이는 4이다.

삼각형 ABC의 외접원의 넓이의 최솟값은? [4점]

- ① $\frac{19}{5}\pi$ ② $\frac{81}{20}\pi$ ③ $\frac{43}{10}\pi$ ④ $\frac{91}{10}\pi$ ⑤ $\frac{24}{5}\pi$

16. 그림과 같이 곡선 $y = \sqrt{x}$, 직선 $y = \frac{1}{k}x (k < 0)$ 와

직선 $x = t (t > 0)$ 로 둘러싸인 영역을 S_t 이라 하자.
 영역 S_t 에 속하고 x 좌표, y 좌표가 모두 정수인 점 중
 y 좌표가 최대인 점의 y 좌표를 $f(t)$, y 좌표가 최소인 점의
 y 좌표를 $g(t)$ 라 하자. $0 < t < 10$ 에서 함수 $f(t) + |g(t)|$ 가
 불연속인 점의 개수가 4가 되도록 하는 정수 k 의 최댓값과
 최솟값의 합은? (단, 영역 S_t 는 경계선을 포함한다.) [4점]



- ① -14 ② -12 ③ -10 ④ -8 ⑤ -6

17. 수열 $\{a_n\}$ 이 다음 조건을 만족시킨다.

(가) $30 < a_1 < 50$
 (나) $n \geq 2$ 인 모든 자연수 n 에 대하여
 $a_{n+1} - a_n = k$ (k 는 짝수인 상수)이다.

두 자연수 $p(p \neq 5, p \neq 7), q(p < q)$ 가

$$\{n \mid |S_n| = |S_p|\} = \{p, 5, 7\}, |S_p| = S_q - 30$$

를 만족시킬 때, $a_1 + a_{10}$ 의 값은? [4점]

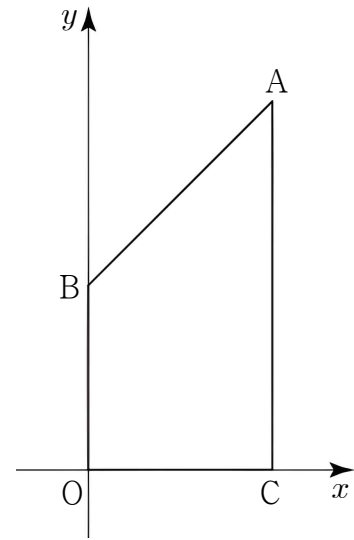
- ① 61
- ② 63
- ③ 65
- ④ 67
- ⑤ 69

18. 그림과 같이 좌표평면 위의 네 점 $O(0, 0), A(1, 2),$

$B(0, 1), C(1, 0)$ 을 꼭짓점으로 하는 사각형의 넓이를 기울기가 t 인 직선이 이등분할 때, 이 직선의 y 절편을 $f(t)$ 라 하자.

$f(a)=0$ 를 만족시키는 실수 a 에 대하여

$\lim_{t \rightarrow \infty} \frac{f(t)}{t} + \lim_{t \rightarrow 1} \frac{f(at)}{1-t}$ 의 값은? [4점]



- ① $\frac{7-2\sqrt{10}}{4}$
- ② $\frac{4-\sqrt{10}}{2}$
- ③ $\frac{9-2\sqrt{10}}{4}$
- ④ $\frac{5-\sqrt{10}}{2}$
- ⑤ $\frac{11-2\sqrt{10}}{4}$

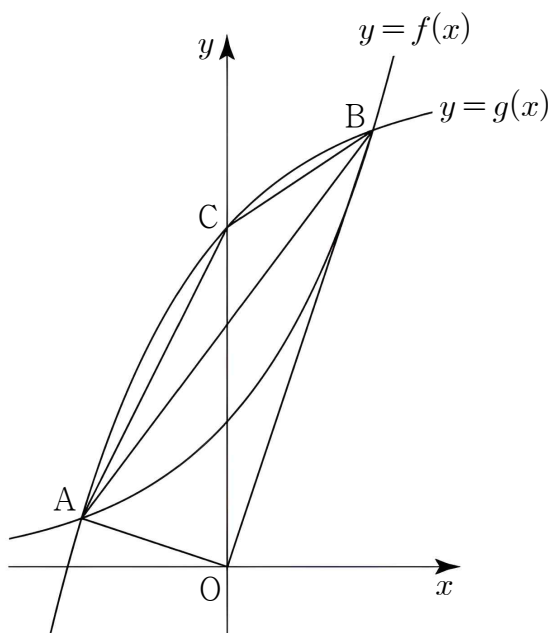
19. 그림과 같이 두 곡선

$$f(x)=a^x, g(x)=-\left(\frac{1}{a}\right)^x+k \quad (k \text{는 } k > 1 \text{인 상수})$$

이 서로 다른 두 점 A, B에서 만난다. 곡선 $y=g(x)$ 가 y 축과 만나는 점을 C라 하자. 삼각형 ACB의 넓이가 삼각형 AOB의 넓이의 $\frac{2}{5}$ 배이고, 직선 AB의 기울기가 $\frac{4}{3}$ 일 때,

사각형 ACBO의 넓이는?

(단, $a > 1$ 이고, O는 원점이다.) [4점]



- ① $\frac{20}{9}$ ② $\frac{7}{3}$ ③ $\frac{22}{9}$ ④ $\frac{23}{9}$ ⑤ $\frac{8}{3}$

20. 실수 k 와 최고차항의 계수가 1인 삼차함수 $f(x)$ 에 대하여 함수 $g(x)$ 를

$$g(x)=\begin{cases} k(x-1) & (x < 1) \\ f(x) & (x \geq 1) \end{cases}$$

라 하자. 함수 $g(x)$ 가 실수 전체의 집합에서 연속이고 수열 $\{a_n\}$ 이 모든 자연수 n 에 대하여 다음 조건을 만족시킨다.

- (가) $g(a_n)=g(n)$
 (나) $a_n \leq 1$
 (다) $\sum_{k=1}^n a_k \leq \sum_{k=1}^4 a_k$

$a_4 = 1$ 일 때, $\sum_{m=1}^{10} \frac{a_m - 1}{m - 1}$ 의 최댓값과 최솟값의 합은? [4점]

- ① $-\frac{105}{2}$ ② -63 ③ $-\frac{315}{4}$ ④ -105 ⑤ $-\frac{315}{2}$

21. 두 자연수 $a(a \leq 5)$, $b(b \leq 8)$ 에 대하여 함수 $f(x)$ 를

$$f(x) = \begin{cases} x+a & (x < 0) \\ |x^2 - bx + a| & (x \geq 0) \end{cases}$$

라 하자. 양수 t 에 대하여 함수 $f(x)$ 의 그래프와 직선 $y=t$ 가
만나는 서로 다른 점의 개수를 $g(t)$ 라 하자. 수열 $\{a_n\}$ 을

$$a_n = \lim_{h \rightarrow 0^+} \{g(n+h) - g(n-h)\}$$

라 할 때, $\sum_{k=1}^4 a_k = -2$ 가 되도록 하는 모든 순서쌍 (a, b) 의
개수는? [4점]

- ① 19 ② 21 ③ 23 ④ 25 ⑤ 27

단답형

22. 함수 $f(x) = x^3 + 3x$ 에 대하여 $\lim_{x \rightarrow \infty} x f\left(\frac{1}{x}\right)$ 의 값을 구하시오.

[3점]

23. 세 수 $a, 7, b$ 가 순서대로 등비수열을 이루고,
세 수 $2a, 10, b$ 가 순서대로 등차수열을 이룰 때, $4a^2 + b^2$ 의
값은? [3점]

24. x 에 대한 방정식 $4^x - 2^{x+\log_2 10} + 16 = 0$ 의 서로 다른 두 실근을 α, β 라 하자. $\alpha^3 + \beta^3$ 의 값을 구하시오. [3점]

25. $1 \leq k \leq 30$ 인 자연수 k 에 대하여, $\log_2 \left(\sin \frac{k\pi}{6} \right)$ 가 정수가 되도록 하는 모든 k 의 값의 합을 구하시오. [3점]

26. 함수 $f(x) = x^2 - 4x$ 에 대하여 다음 조건을 만족시키는 함수 $g(x)$ 가 존재하도록 하는 실수 k 의 최솟값을 구하시오. [4점]

- (가) 함수 $g(x)$ 는 실수 전체의 집합에서 연속이다.
 (나) 모든 실수 x 에 대하여 $(f \circ g)(x) = x^2 - 6x + k$ 이다.

27. 두 실수 p, q 에 대하여 수열 $\{a_n\}$ 의 첫째항부터 제 n 항까지의 합 S_n 이

$$S_n = n!(pn + q)$$

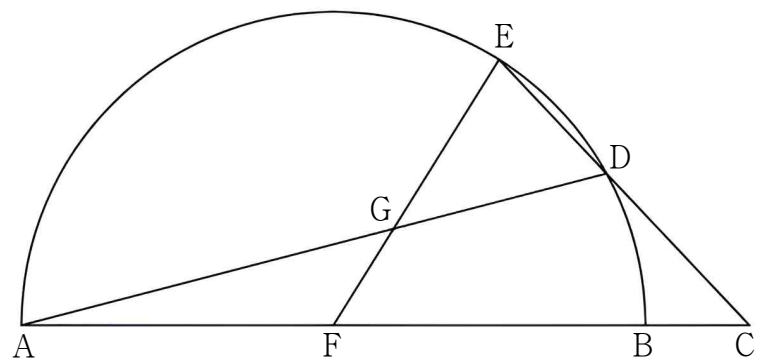
이다. 수열 $\{a_n\}$ 이 다음 조건을 만족시킨다.

- (가) $a_1 \times a_2 = 0$
- (나) $|a_1| + |a_2| + |a_3| = 24$

두 실수 p, q 의 순서쌍 (p, q) 에 대하여 모든 $2p+q$ 의 값의 곱을 구하시오. [4점]

28. 그림과 같이 길이가 6인 선분 AB를 지름으로 하는 반원이 있다. 반직선 AB 위의 점 C를 $\overline{AC}=7$ 이 되도록 잡고, 반원 위의 점 D를 $\overline{CD}=2$ 가 되도록 잡는다. 직선 CD가 반원과 만나는 점 중 D가 아닌 점을 E라 하자. 선분 AB의 중점을 F라 하고, 두 선분 AD, EF의 교점을 G라 하자. 선분 EG의 길이가 $\frac{q}{p}$ 일 때, $p+q$ 의 값을 구하시오.

(단, p 와 q 는 서로소인 자연수이다.) [4점]



29. 실수 t 에 대하여 함수 $f(x)$ 를

$$f(x) = \begin{cases} 2^x & (x < \log_2(|t|+3)) \\ 2|t|+6-2^x & (x \geq \log_2(|t|+3)) \end{cases}$$

라 하자. $\log_2(t^2+1) \leq x \leq \log_2(t^2+8)$ 에서 함수 $|f(x)|$ 의 최댓값과 최솟값의 합을 $g(t)$ 라 할 때, 함수 $g(t)$ 가 $t = \alpha$ 에서 미분가능하지 않도록 하는 모든 실수 α 의 값을 작은 것부터 순서대로 나열한 것을 $\alpha_1, \alpha_2, \dots, \alpha_m$ 라 하자.

이때, $\sum_{k=1}^m g(\alpha_k)$ 의 값을 구하시오. [4점]

30. -2 이상 2 이하의 정수 $a (a \neq 0)$ 와 -4 이상 4 이하의 두 정수 b, c 에 대하여 함수 $f(x) = (-1)^a \times x^3 + ax + b$ 라 하고, 함수 $f(x)$ 에 대하여 함수 $g(x)$ 를

$$g(x) = \begin{cases} f(x) & (x \geq 0) \\ c + f(x) & (x < 0) \end{cases}$$

라 하자. -4 이상 4 이하의 정수 d 에 대하여 두 곡선

$$y = \{g(x) - t - d\}^2, \quad y = \frac{1}{2} - (x - t)^2$$

이 만나는 서로 다른 점의 개수를 $h(t)$ 라 할 때, 모든 실수 t 에 대하여 $h(t) \leq 1$ 가 되도록 하는 모든 순서쌍 (a, b, c, d) 의 개수를 구하시오. [4점]

* 확인 사항

○ 답안지의 해당란에 필요한 내용을 정확히 기입(표기)했는지 확인하시오.

수학 영역

※ 시험이 시작되기 전까지 표지를 넘기지 마시오.